



FICHA DE APLICACIÓN DOMICILIARIA Nº 20

“EXPRESAMOS NUESTRAS OPINIONES SOBRE EL CUIDADO Y RESPETO DEL ESPACIO PERSONAL”

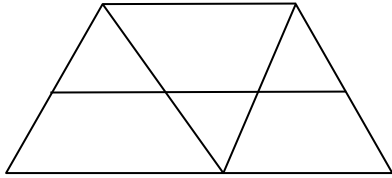
TEMA: Me divierto contando figuras

ÁREA: MATEMÁTICA	NIVEL: PRIMARIA	GRADO Y SECCIÓN: 6TO. “A-B-C”
DOCENTES: Lourdes Castro Tapia – Sujey Aquino Mamani – Patricia Gómez Ramos		
COMPETENCIA : RESUELVE PROBLEMAS DE CANTIDAD		

CONTEO DE FIGURAS

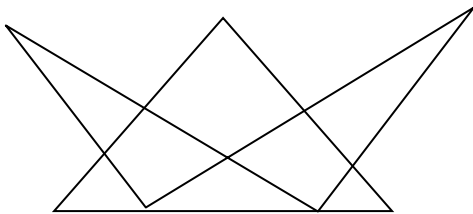
El conteo de figuras consiste en averiguar la cantidad máxima de figuras de un mismo tipo que se solicite (triángulos, cuadriláteros, líneas, etc.) las que se encuentran en una figura dada. Si la cantidad de figura es muy grande es necesario generalizar para obtener el total.

1. ¿Cuántos cuadriláteros hay como máximo en la figura?



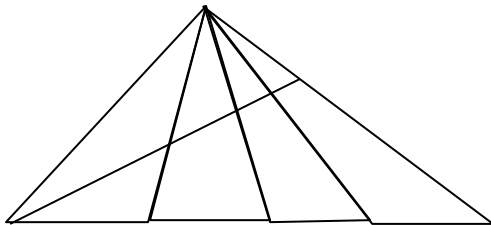
- A) 12 B) 14 C) 10
D) 13 E) 8

2. ¿Cuántos triángulos hay en: ?



- A) 8 B) 10 C) 11
D) 12 E) 14

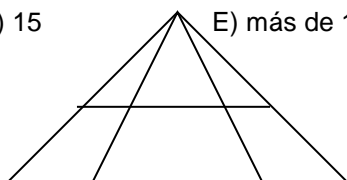
3. ¿Cuántos triángulos hay en la figura?



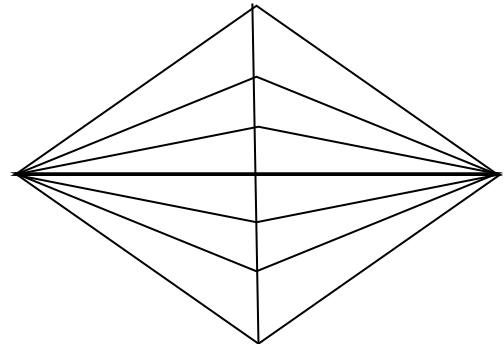
- A) 20 B) 24 C) 28
D) 25 E) 22

4. ¿Cuántos triángulos hay en esta figura?

- A) 10 B) 12 C) 14
D) 15 E) más de 15

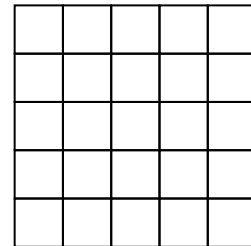


5. El número de triángulos en la siguiente figura es:



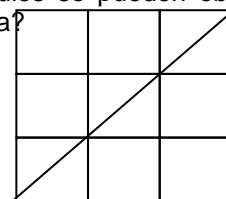
- A) 24 B) 42 C) 28
D) 48 E) N.A.

6. El número de cuadraditos que hay en la figura es



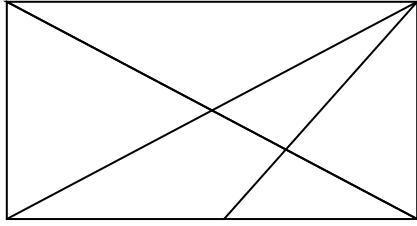
- A) 24 B) 30 C) 42
D) 55 E) N.A.

7. ¿Cuántos triángulos se pueden observar en la siguiente figura?



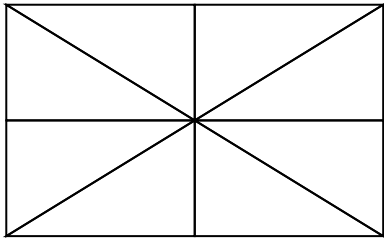
- A) 10 B) 12 C) 8
D) 6 E) 15

8. Cuántos triángulos se pueden observar en la siguiente figura



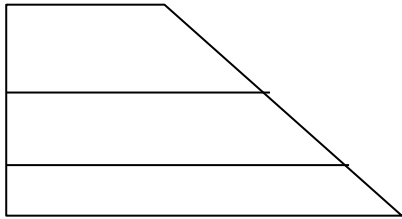
- A) 11 B) 13 C) 15
D) 16 E) 14

9. ¿Cuántos triángulos hay en la figura?



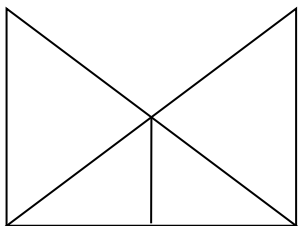
- A) 12 B) 14 C) 16
D) 18 E) 24

10. ¿Cuántos trapecios hay en la siguiente figura?




- A) 3 B) 4 C) 6
D) 7 E) 10

11. ¿Cuántos triángulos hay en la siguiente figura?



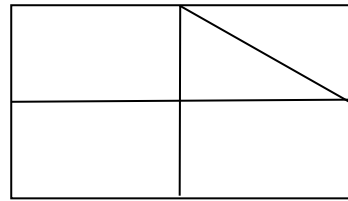
- A) 5 B) 6 C) 7
D) 8 E) 9

12. ¿Cuál es el número de cuadriláteros?



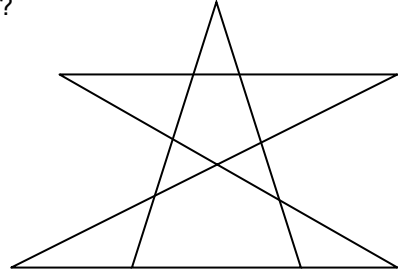
- A) 9 B) 8 C) 10
D) 11 E) 12

13. ¿Cuántos cuadriláteros se distinguen en la figura?



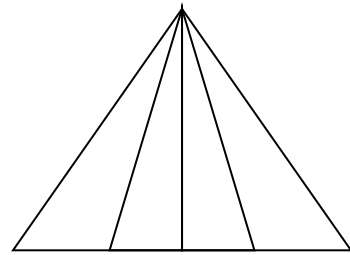
- A) 7 B) 8 C) 11
D) 9 E) 10

14. ¿Cuántos triángulos hay en la siguiente figura?



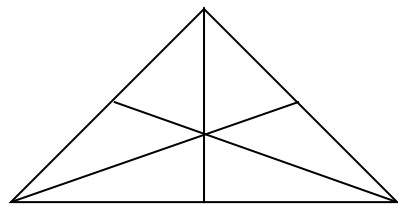
- A) 7 B) 12 C) 16
D) 10 E) 14

15. ¿Cuántos triángulos tiene la siguiente figura, como máximo?



- A) 8 B) 10 C) 12
D) 6 E) 4

16. ¿Cuántos triángulos tiene la siguiente figura?



- A) 12 B) 16 C) 6
D) 8 E) 10