



FICHA DE APLICACIÓN DOMICILIARIA Nro. 20

TÍTULO DE LA EXPERIENCIA DE APRENDIZAJE: "Cuido mi espacio personal y familiar"

TEMA: **PROBLEMAS ADITIVOS DE COMBINACIÓN**

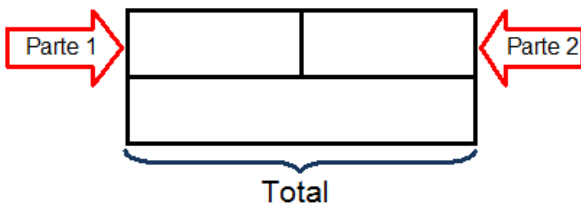
ÁREA: MATEMÁTICA	NIVEL: PRIMARIA	GRADO Y SECCIÓN: 2do. "B"
DOCENTE: Cecilia Capellino Vargas		
COMPETENCIA: Resuelve problemas de cantidad.		



Resuelve los problemas siguiendo los pasos que se te indican. Utiliza materiales como: botones, chapitas, material base diez, etc.

1.- Un reciclador recolectó 34 botellas de plástico y 23 botellas de vidrio. ¿Cuántas botellas recolectó en total?

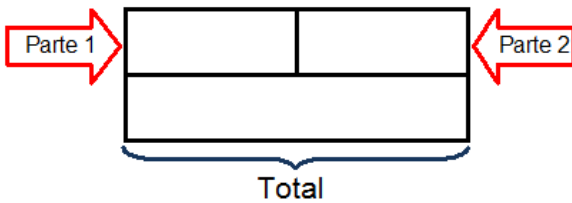
Solución



Respuesta: _____

2.- Manuel tiene 14 carritos y Rubén 15 trompos. ¿Cuántos juguetes tienen los dos juntos?


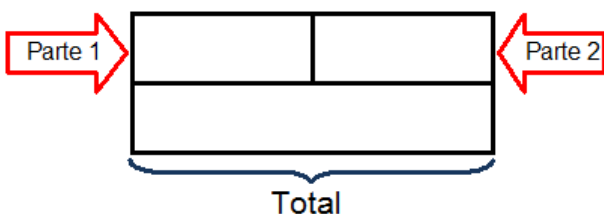
Solución



Respuesta: _____

3.- En la granja de don Jacinto hay 36 gallinas y 34 pollitos. ¿Cuántas aves tiene en total don Jacinto?

Solución

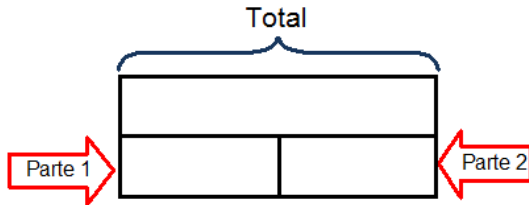


Respuesta: _____



4.- Hay 65 cuadernos en una caja. 28 son cuadriculados y el resto son rayados. ¿Cuántos cuadernos son rayados?

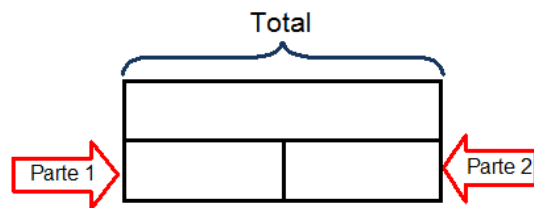
Solución



Respuesta: _____

5.- En una bolsa hay 26 frutas. 14 son fresas y el resto son naranjas. ¿Cuántas naranjas hay en la bolsa?


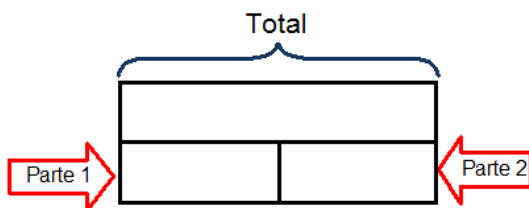
Solución



Respuesta: _____

6.- Juan vendió hoy en el mercado 74 kg. de frutas, de los cuales 49 kg. son de manzanas y el resto de peras. ¿Cuántos kg. de peras vendió Juan hoy?

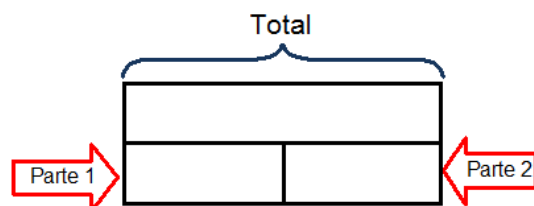
Solución



Respuesta: _____

7.- María tiene en su jardín 42 flores: 15 son rosas y el resto son girasoles. ¿Cuántos girasoles tiene María en su jardín?

Solución



Respuesta: _____